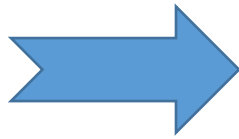
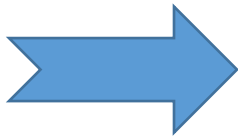
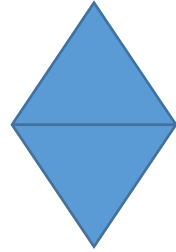


بند (١٣ - ١٠) التطابق والتناظر

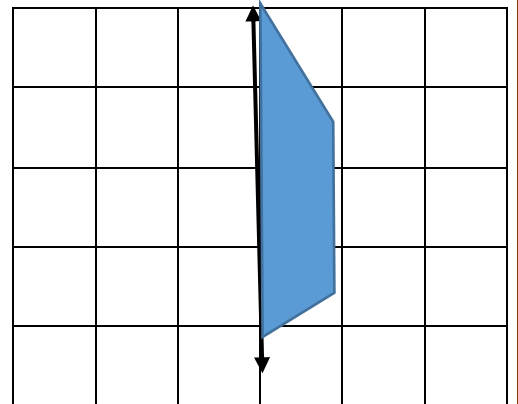
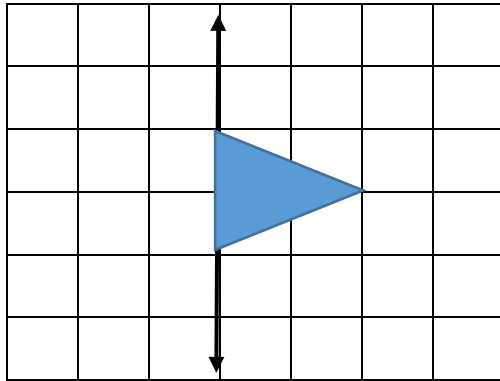
السؤال الأول

اكتب متطابقان ام غير متطابقان :-





السؤال الثاني اكمل رسم الشكل حيث الخط المرسوم هو خط التناظر ؟



السؤال الثالث

ارسم خطوط التناظر للاشكال الاتيه (ان امكن) ؟

