









المستقيمات والقطع المستقيمة والزوايا

السؤال الأول: اكتب اسم الشكل

 <p>د</p>	 <p>ج</p>	 <p>ب</p>	 <p>أ</p>
_____	_____	_____	_____

السؤال الثاني: اكتب زاوية: (قائمة - أصغر من قائمة - أكبر من قائمة)

 <p>د</p>	 <p>ج</p>	 <p>ب</p>	 <p>أ</p>
_____	_____	_____	_____

السؤال الثالث: من خلال شبكه مربعات ارسم علي الشبكة:

<p>ج شعاع</p>	<p>ب مستقيم</p>	<p>أ زاوية</p>
