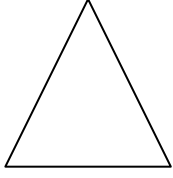
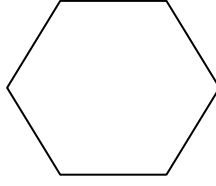


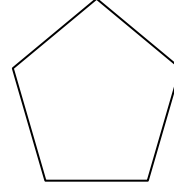
تمرين (١) أكتب اسم كل من المضلعات التالية :-




-----



-----


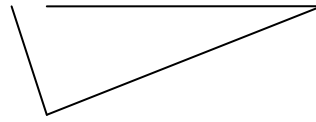

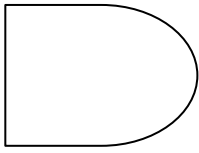


-----




-----

تمرين (٢) حوط الشكل الذي يمثل مضلع



تمرين (٣)

ارسم مستقيما يقسم المستطيل الي قسمين متطابقين ، فماذا تسمي كلا من القسمين ؟  
ما الحلول الممكنة ؟



-----