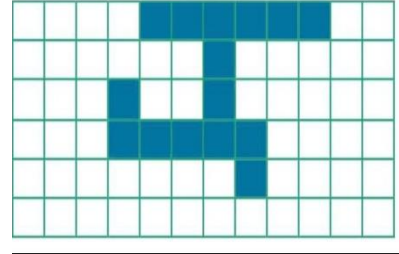
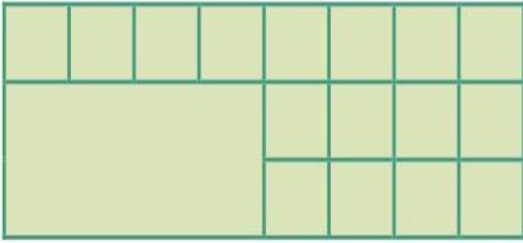


**بند (١٣-٨) مساحة المنطقه المستطيله والمنطقه المربعه****السؤال الأول**

احسب مساحة الاشكال التاليه بالوحدات المربعه؟




المساحة-----

المساحة-----

**السؤال الثاني**

أوجدي مساحة هذا الشكل :-

**السؤال الثالث**

احسب مساحة ارض منزل علي شكل منطقه مربعه طولها ٢٤ متر ؟