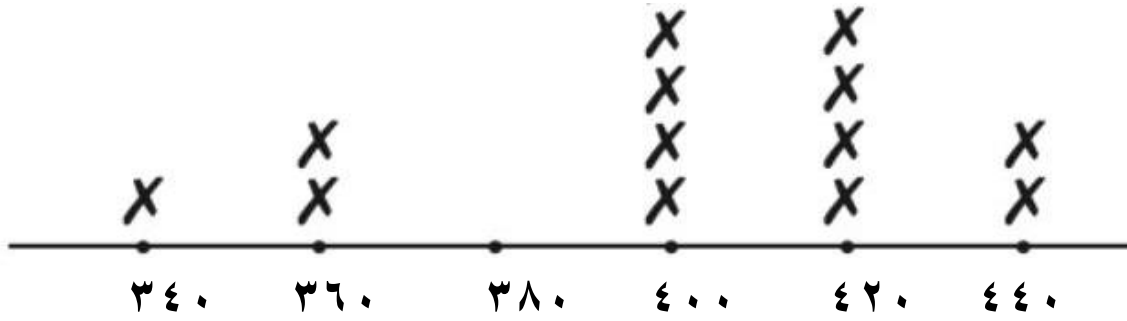


ورقة عمل الدرس (٢-٨)
استخدام البيانات



استخدم التمثيل البياني بالنقاط المجمعة المقابل وأجب عن الأسئلة التالية







أوزان بعض الحيتان بالكيلو جرام

حيث الرمز **X** تمثل حوت واحد

- (١) كم حوت وزنه ٣٤٠ كجم؟
- (٢) ما الوزن الأكثر تكرارا؟
- (٣) ما الفرق بين أكبر وزن وأقل وزن للحيتان؟
- (٤) كم حوت تم وزنه؟

استخدم التمثيل البياني التالي بالمصورات . اجب عن الأسئلة التالية

انتاج احدى مزارع الدواجن للبيض

اليوم	عدد البيض
السبت	
الاحد	
الاثنين	
الثلاثاء	

كل  تمثل ١٠٠ بيضه

(١) أي أيام الأسبوع هي الأكثر انتاجا ؟

(٢) كم بلغ الإنتاج يوم السبت ؟

(٣) أي أيام الأسبوع يتساوى فيه انتاج البيض ؟

(٤) ما مجموع ما تم انتاجه يومي الاثنين والثلاثاء ؟