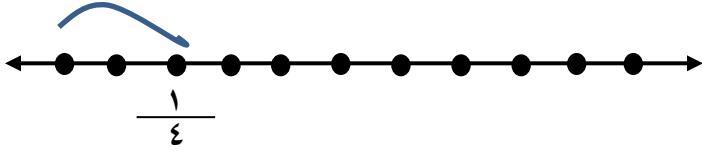




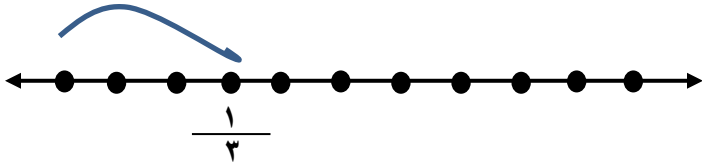
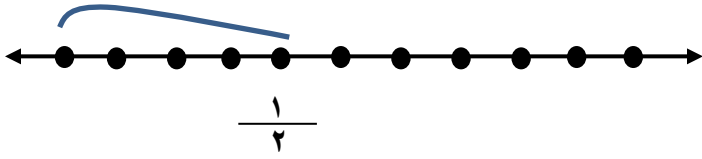
ورقة عمل للصف الرابع (٥ - ٥) ترتيب الكسور



السؤال الأول: رتب الكسور ترتيباً تصاعدياً باستخدام خط الأعداد



$$\frac{1}{3}, \frac{1}{2}, \frac{1}{4}$$



ب - رتب الكسور تنازلياً بالاستعانة برفائق الكسور

$$\frac{3}{8}, \frac{1}{8}, \frac{5}{8}$$

ظل (أ) إذا كانت العبارة صحيحة و (ب) إذا كانت العبارة خاطئة

$$\frac{5}{7}, \frac{4}{7}, \frac{2}{7}$$

(ب)

(أ)

مرتبة ترتيباً تصاعدياً