



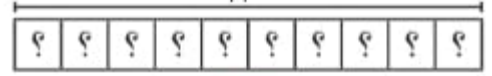
وزارة التربية

الإدارة العامة لمنطقة الجهرء التعليمية
مدرسة أمية الغفارية الابتدائية بنات

ورقة عمل
الصف الرابع
الفصل الدراسي الثاني

(١) أوجد العدد المجهول

٥٠

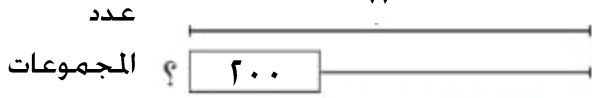


$$٥٠ = \square \times ١٠$$

$$\square = ١٠ \div ٥٠ \text{ حل}$$

(٢) أوجد العدد المجهول

٨٠٠



$$٨٠٠ = ٢٠٠ \times \square$$

$$\square = ٢٠٠ \div ٨٠٠ \text{ حل}$$

(٣) اِسْتَحْدِمْ أَوْ: لِتَوْجِدَ الْعَدَدَ الْمَجْهُولَ.

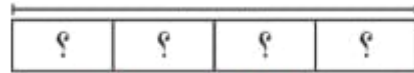
$$١٢٠ = \square \times ٣$$

(٤) اِسْتَحْدِمْ أَوْ: لِتَوْجِدَ الْعَدَدَ الْمَجْهُولَ.

$$١٨٠٠ = ٦٠٠ \times \square$$

(٥) اختر الإجابة الصحيحة بوضع (✓)

٢٥٠٥



عدد العناصر في كل مجموعة هو

- ٥١ ☐ ٥٠١ ☐ ٤٠١ ☐ ٤٥ ☐

(٨) اختر الإجابة الصحيحة بوضع (✓)

١٢٤



- ٤ ☐ ٥ ☐ ٦ ☐ ٧ ☐