



مدرسة محمد صالح العجيري ألبنين




الإدارة العامة لمنطقة الجهاد التعليمية
التوجيه الفني للرياضيات

ورقة عمل الوحدة الأولى للصف الخامس الابتدائي
بند (١ - ٤) درس : مقارنة الأعداد الكلية


* ضع رمز العلاقة المناسب (< أو > أو =) :

٥ ١ ٦ ٧ ٢ ٣ ٤




٥ ٤ ٢ ٣ ١ ٠

٣ ٩ ٥ ٢ ٤ ١ ٠ ١ ٢ ٤




٧ ٦ ٤ ٣ ٠ ٠ ٤ ٠ ٥ ٦

١ ٠ ٠ ٠ ٠ ٠ ٠



مليون

٧ ١ ٠ ٣ ٠ ٠ ٨ ٢ ٠ ٤



٧ ٠ ٣ ١ ٨ ٣ ٥ ٢ ٠ ٠

اعداد المعلمات : فاطمة علي و منيرة مجلي

الموجه الفني : طلال العنزي

رئيسة قسم الرياضيات : وسمية العتيبي