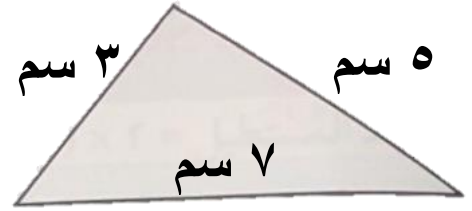
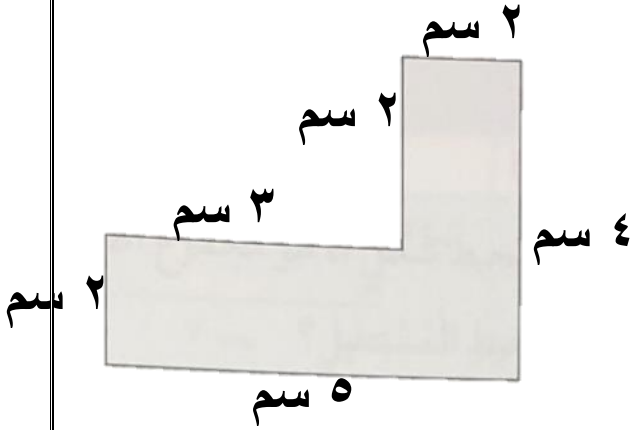
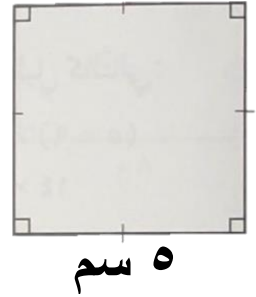
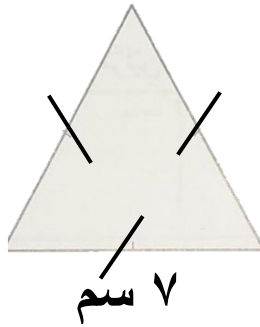
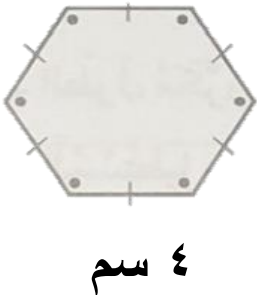


محيط المضلعات

❖ نشاط اوجد محيط كل مضلع :



❖ نشاط اوجد محيط كل مضلع منتظم :



❖ نشاط مثنى منتظم طول كل ضلع من اضلاعه ٦ سم فما محيطه ؟