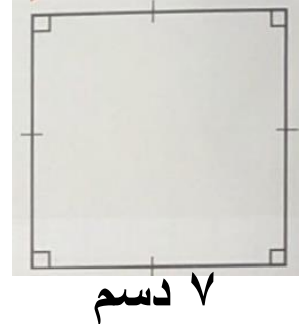
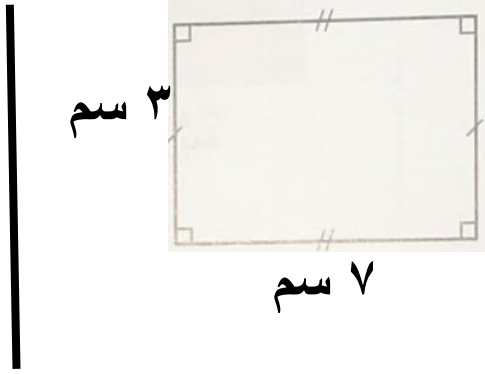
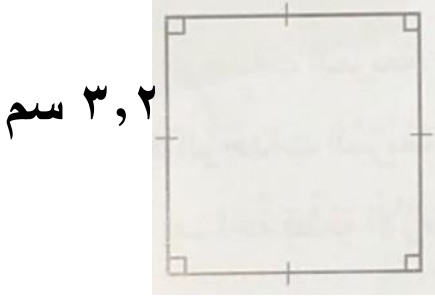


محيط المربع و المستطيل

❖ نشاط اوجد محيط كل شكل مما يلي :



❖ نشاط قطعة ارض مستطيلة طولها ١٢,٤ م و عرضها ٨,٣ م , احسب محيطها ؟

❖ نشاط مربع محيطه ٢٨,٤ دسم ، فما طول ضلعه ؟