


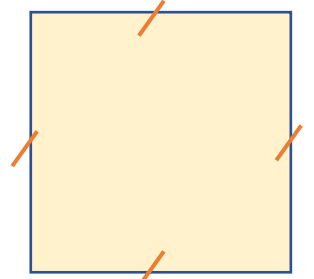
مساحة المناطق المستطيلة والمناطق المربعة

❖ نشاط اوجد مساحة كل منطقة مما يلي :

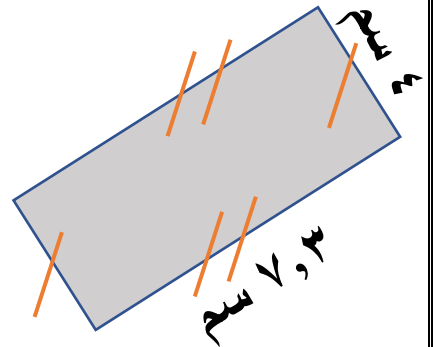
٣ دسم



٢٠ دسم



٤٠ مم



❖ نشاط ما مساحة منطقة مربعة طول ضلعها ٣,٢ كم ؟

