





(١-٢) الأجزاء من عشرة / الأجزاء من مئة  
والأعداد العشرية

(١) أكتب في الصورة المعتادة و الصورة العشرية كلاهما يلي :

(ج)

(ب)

(أ)



.....  
.....

.....  
.....

.....  
.....

(ب) أكتب في الصورة العشرية لكل مما يلي :

.....

(أ) أربعة عشر جزءاً من مئة .

.....

(ب) خمسة صحيح وجزئين من مئة.

.....

(ج) ثمانية صحيح وسبعة أجزاء من عشرة.

.....

(د) ثلاث أجزاء من مئة .

..... = ١٥  $\frac{٣٦}{١٠٠}$  (و)

..... =  $\frac{٧}{١٠٠}$  (هـ)

..... = ١٠  $\frac{٤}{١٠٠}$  (هـ)

..... = ١  $\frac{٥}{١٠}$  (ز)

(٣) أكمل رموز الأعداد العشرية على خط الأعداد .

