



الوحدة السابعة : الكسور و الاعداد الكسرية


**( ٧ - ٤ ) الكسر في ايسط صورة****اوجد ايسط صورة لكل من الكسور التالية :**




$$= \frac{4}{12}$$



$$= \frac{6}{8}$$



$$= \frac{3}{5}$$



$$= \frac{9}{18}$$

**حوط الكسور التي في ايسط صورة فيما يلي :**

$$\frac{12}{15} \quad \frac{4}{9} \quad \frac{3}{8} \quad \frac{6}{8} \quad \frac{3}{6} \quad \frac{4}{5}$$