




الوحدة الحادية عشر: بند (١١ - ١) النسب المئوية




اسم الطالبة: الصف: ٦ / التاريخ:

السؤال الأول:

١ تَمَرِّنْ
أَكْتُبِ النِّسْبَةَ الْمِئْوِيَّةَ الَّتِي تُمَثِّلُ الْأَجْزَاءَ الْمُظَلَّلَةَ.



٢ نَمَثِلْ كُلَّ نِسْبَةٍ مِئْوِيَّةٍ عَلَى شَبَكَةِ الْمِئْوَةِ:



السؤال الثاني: اختر الإجابة الصحيحة في كل مما يلي:

٤٠ بالمئة =

أ) ٤% ب) ٤٠% ج) ٤٠٠% د) ٤,٠%

٧
—
١٠٠

أ) ٧% ب) ٧٠% ج) ٧٠٠% د) ٧,٠%

