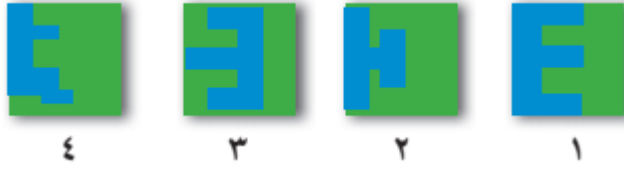


(٤ - ١٠) تطوير مهارات حل المسائل

اجب عن الأسئلة التالية:



اختر الشكل الذي يبيّن الشكل ٢ دون طي؟

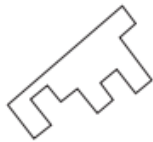
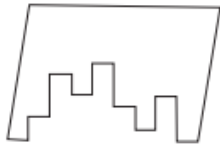


أي شكل أعلاه يشبه قبل طيه هذا الشكل؟

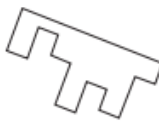


أي شكل يمكن أن يشبه هذا الشكل إذا أعيد طيه أفقيًا؟

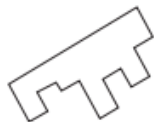
اختر القطعة المناسبة للحصول على الشكل الرباعي التالي:



د



ج



ب



أ