
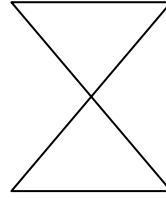




(٤ - ١٢) خط التناظر

❖ السؤال الأول : أرسم خطوط التناظر لكل من الاشكال التالية :-



❖ السؤال الثاني : أرسم النصف الاخر من الشكل في كل مما يلي بحيث يكون المستقيم

الموضح هو خط تناظر :-

