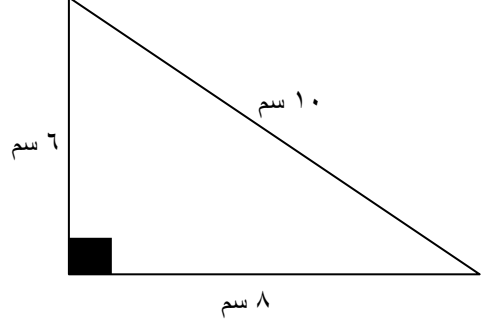
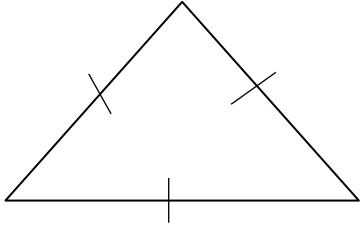


(٤ - ٥) تصنيف المثلثات

❖ السؤال الأول : صنف المثلثات التالية حسب قياسات زواياها وأطوال اضلاعها :-

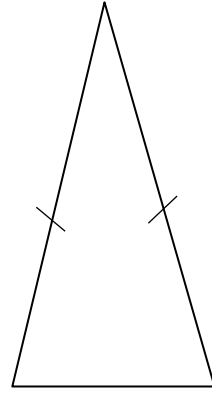
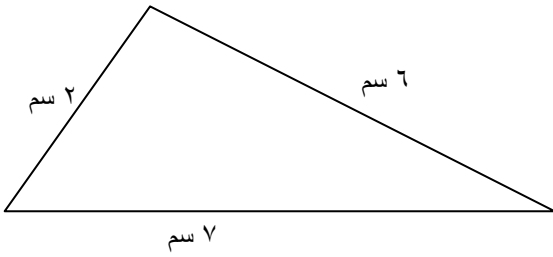


..... من حيث الاضلاع :

..... من حيث الاضلاع :

..... من حيث الزوايا :

..... من حيث الزوايا :



..... من حيث الاضلاع :

..... من حيث الاضلاع :

..... من حيث الزوايا :

..... من حيث الزوايا :