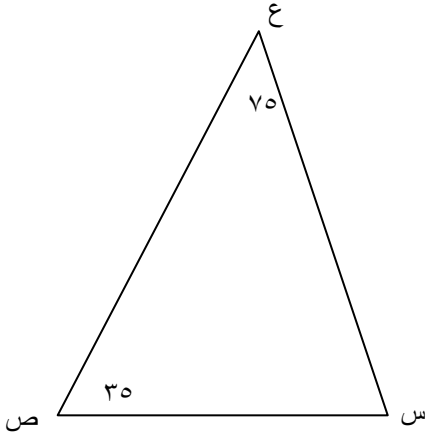


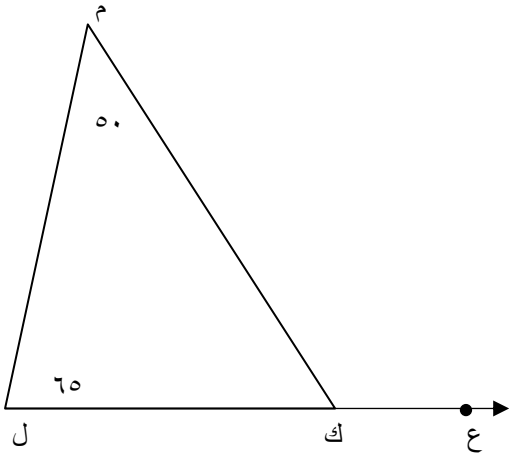
(٤ - ٧) مجموع قياسات زوايا المثلث

❖ السؤال الأول : أستخدم البيانات على الرسم ثم اكمل :-



قياس $(\hat{س}) = \dots\dots\dots$

السبب :

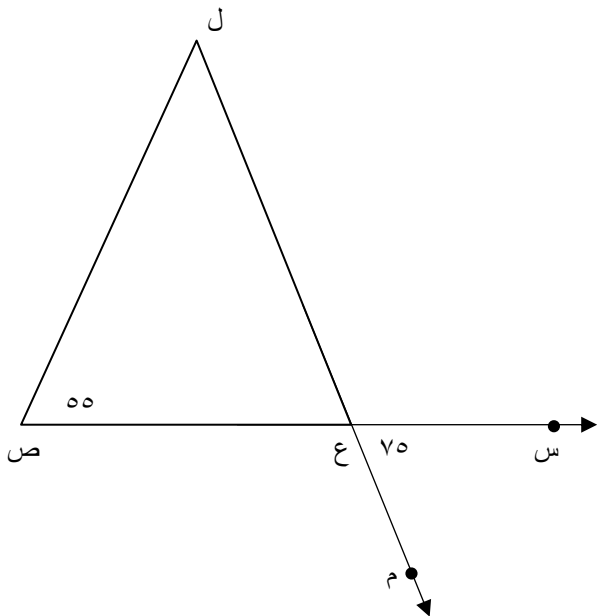


قياس الزاوية $(\hat{م ك ل}) = \dots\dots\dots$

السبب :

قياس الزاوية $(\hat{م ك ع}) = \dots\dots\dots$

السبب :



قياس الزاوية $(\hat{ل ع ص}) = \dots\dots\dots$

السبب :

قياس الزاوية $(\hat{ل ع ص}) = \dots\dots\dots$

السبب :