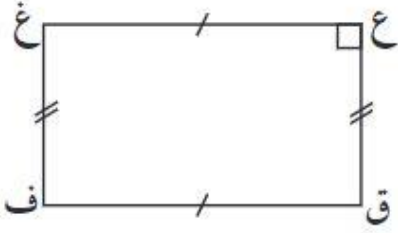
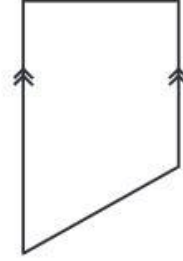


(٤ - ٩) تصنيف الاشكال الرباعية

السؤال الأول : صنف كل من شكل مما يلي :-

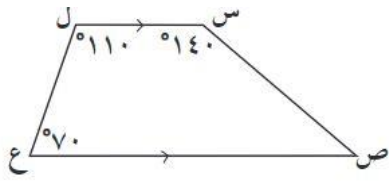


.....
.....



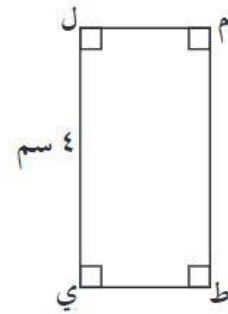
.....
.....

السؤال الثاني : أستخدم البيانات على الرسم ثم اكمل :-



قياس (ص) =

س ل //



طول م ط =

قياس (م) =