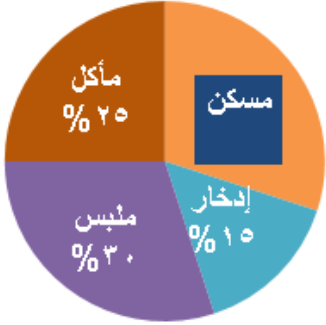


ورقة عمل للصف السابع

البند ٦-١

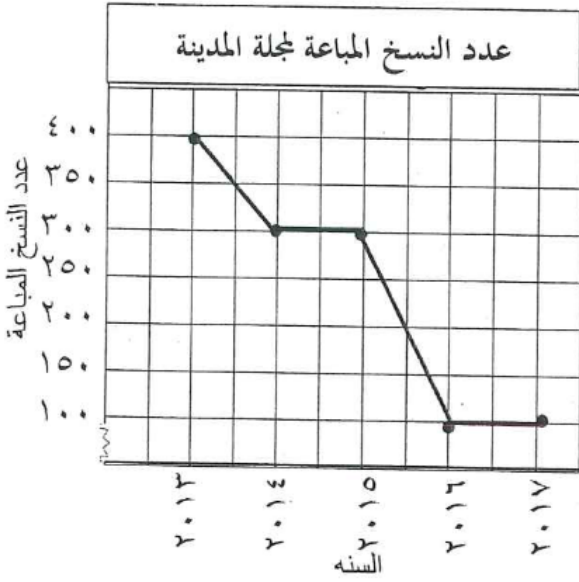
قراءة التمثيلات البيانية

أوجد :



النسبة المئوية للمسكن

استخدم التمثيل البياني بالخطوط الموضح أمامك للإجابة على ما يلي:



(١) كم عدد النسخ التي تم توزيعها في

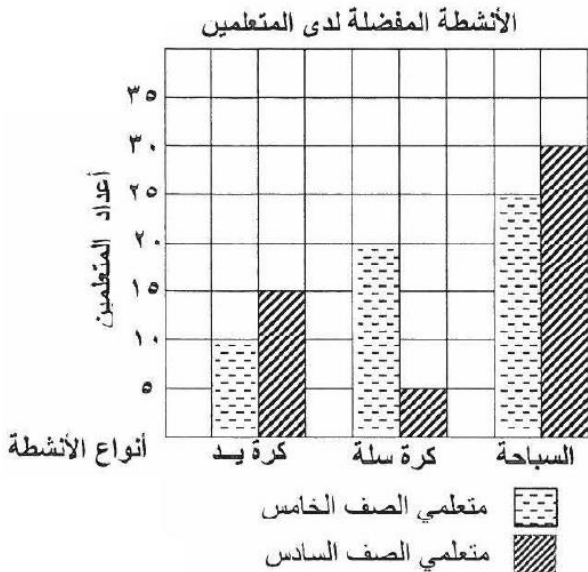
العام ٢٠١٥ ؟

(٢) بكم يزيد عدد النسخ التي بيعت في العام

٢٠١٣ عن عدد تلك التي بيعت

في عام ٢٠١٧ ؟

استخدم التمثيل البياني بالأعمدة المزودة لتحل الأسئلة التالية:



(١) ما هو النشاط الأكثر تفضيلاً لدى متعلمي الصف الخامس والسادس ؟

(٢) كم عدد متعلمي الصف الخامس الذين يفضلون كرة السلة ؟

(٣) كم يزيد عدد متعلمي الصف السادس الذين يفضلون كرة اليد عن متعلمي الصف الخامس الذين يفضلون هذا النوع من النشاط ؟