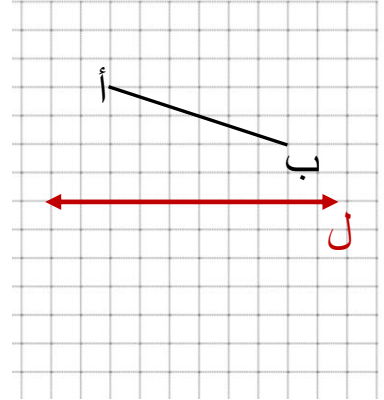
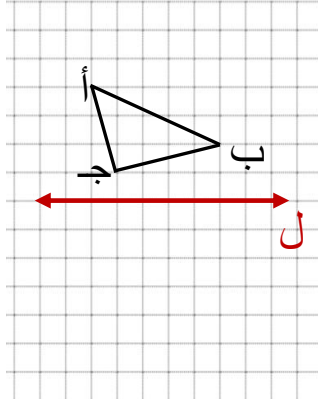
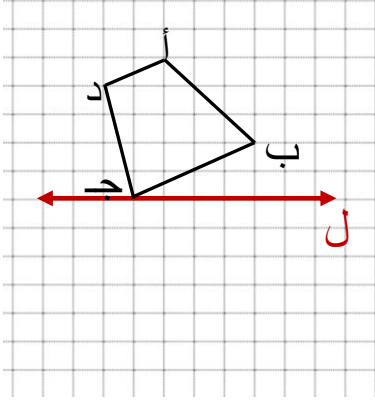


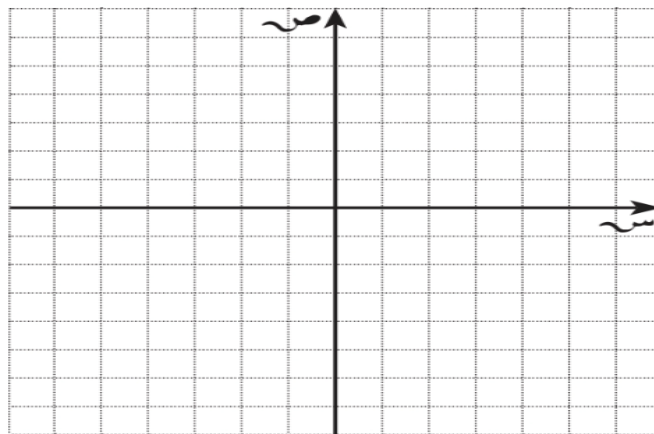
## الوحدة التاسعة

بند ( ٩ - ٢ ) الانعكاس وخط التماثل

ارسم صورة كل من الأشكال التالية بالانعكاس في المحور ل .



أنشئ  $\Delta$  س ص ع الذي رؤوسه هي س (٢، ٢)، ص (٤، ١)، ع (١، ٣)، ثم  
 أنشئ صورته  $\Delta$  س ص ع بالانعكاس في المحور الصادي .



اعداد المعلمتين : مها الظفيري &amp; ايمان السيد

مديرة المدرسة :  
عليا المطيريالموجهة الفنية :  
صيته العجميرئيسة القسم :  
فاطمه العازمي