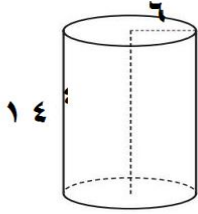


السؤال الاول :- أوجد حجم الاسطوانة المبينة في الشكل المجاور :



(اعتبر $\frac{22}{7} = \pi$)

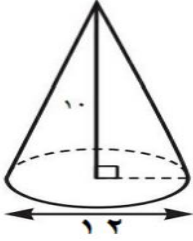
(أ)

.....

.....

.....

السؤال الثاني :- أوجد حجم المخروط المبين في الشكل التالي : (اعتبر $\pi = 3,14$)

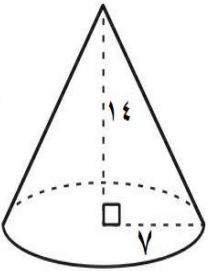


.....

.....

.....

السؤال الثالث :- أوجد حجم المخروط المبين في الشكل التالي : (اعتبر $\pi = \frac{22}{7}$)



.....

.....

.....

انتهت الأسئلة