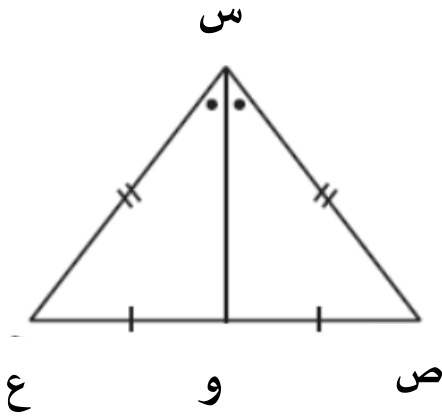


ورقة عمل الصف الثامن بند (٤ - ١) التطابق

١) في الشكل المقابل: Δ س ص ع وبحسب المعطيات أكمل ما يلي:



س ص \cong

(أ) \cong

(ج) ضلع مشترك

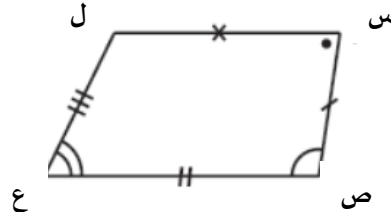
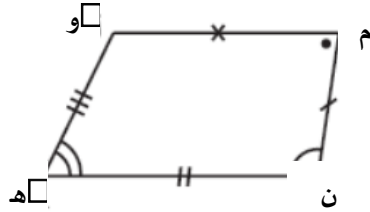
(د) ص س و \cong

(هـ) \cong

(و) س و ص \cong

(ز) Δ س و ص \cong

٢) من الشكلين س ص ع ل ، م ن ه و أكمل ما يلي حسب المعطيات على الرسم



(ب) \cong

(د) \cong

(و) \cong

(ح) \cong

(أ) س \cong

(ج) ل \cong

(هـ) س ص \cong

(ز) ل س \cong