

الصف الثامن

الوحدة الثامنة

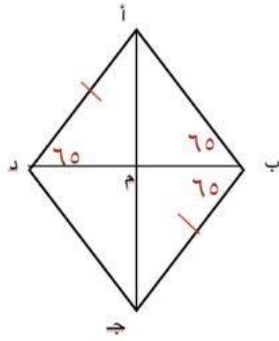
الإدارة العامة لمنطقة الجوف التعليمية

الفصل الدراسي الثاني

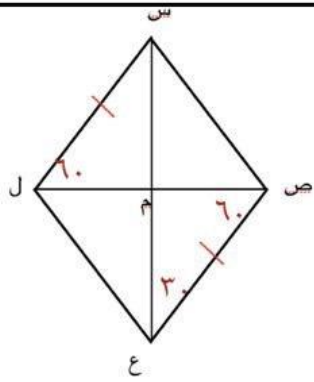
بند ( ٨ - ٥ )

مدرسة حليلة السعدية المتوسطة بنات.

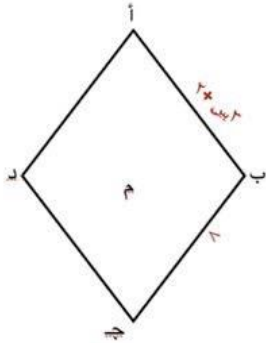
المعين (خواصه والكشف عنه)



من خلال المعطيات الموضحة على الرسم ، اثبتي ان الشكل أ ب ج د معين



من خلال المعطيات الموضحة على الرسم ، اثبتي ان الشكل س ص ع ل معين



أ ب ج د معين ،  $أب = (٣ س + ٢)$  وحدة طول،  $ب ج = ٨$  وحدة طول  
اوجدي قيمة س

اعداد المعلمة  
مريم العنزي