

ورقة عمل

الصف التاسع

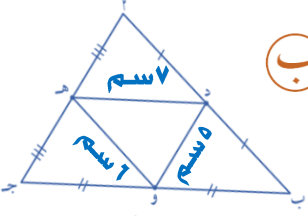
(٨ - ١)

القطعة المستقيمة الواصلة
بين
منتصفي ضلعين في مثلث

منهجية
المجهرية
التعليمية

التوجيه الفني لرياضيات

السؤال الأول : اختر (أ) إذا كانت العبارة صحيحة و (ب) إذا كانت العبارة خاطئة :

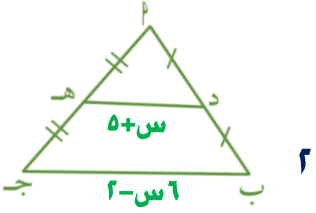


(ب)

(أ)

في الشكل المجاور محيط المثلث أ ب ج = ٤٢ سم

السؤال الثاني : اختر الإجابة الصحيحة :



في الشكل المجاور قيمة س =

(د) ٢

(ج) ٥

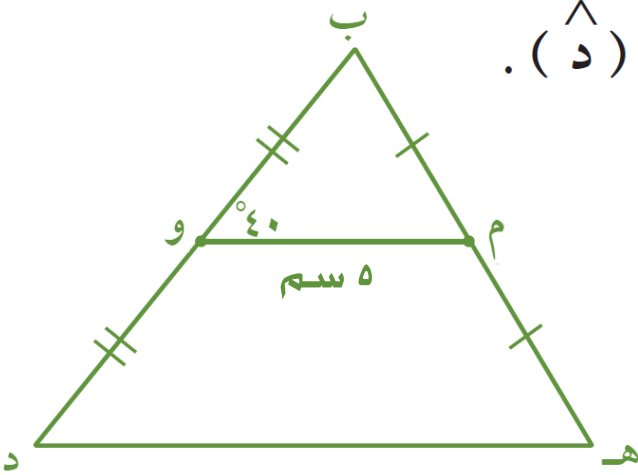
(ب) ٣

(أ) ٤

السؤال الثالث : ب ه د مثلث فيه م منتصف ب ه ، و منتصف ب د

و (م و ب) = ٤٠° ، م و ه = ٥ سم

أوجد بالبرهان : (١) ه د (٢) (د) .



السؤال الرابع : ب ه ج مثلث فيه س منتصف ب ه ، ه ص = ٣ سم

و (ب) = (ه س ص) = ٥٠° ، أوجد ه ج

