

وزارة التربية

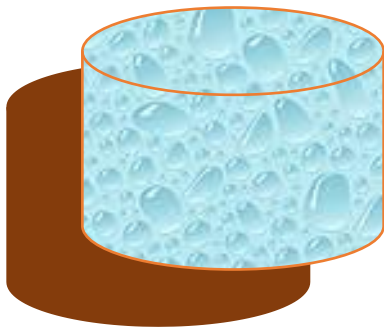
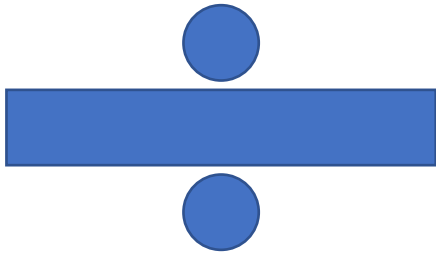



منطقة الجبراء التعليمية

ثانوية صباح الناصر الصباح

اوراق عمل رياضيات

للسف الحادى عشر علمى



(٢٠١٩ / ٢٠١٨)


(2) أوجد معكوس الدالة:

$$y = \sqrt[5]{x + 3}$$

أوجد معكوس الدالة: $f(x) = \sqrt{x - 4}$

(٢٠١٥ / ٢٠١٤)

أوجد أصفار $y = (x - 2)(x + 1)(x + 3)$ ،
ثم ارسم بيانًا تقريبيًا للدالة مراعيًا سلوك نهاية الدالة.



أوجد أصفار الدالة $y = (x - 7)(x - 5)(3 - x)$ ،
ثم ارسم بياناً تقريبياً للدالة مراعيًا سلوك نهاية الدالة.

